

Aluno(a): _____
 Professora: Patrícia Bastos

16/11/2020
 2º Ano

Gabarito- Atividade de matemática

É PAR OU ÍMPAR?

1) Circule os pares de meias e responda:

A) Quantas meias existem abaixo?









B) Quantos pares de meia você formou?



Resposta a) 14 b) 7 pares

2) Vamos ver quem vai ganhar esse jogo? Par ou ímpar?



MARCOS PAR	ALEXANDRE ÍMPAR	TOTAL	GANHADOR
		2	MARCOS
			
			
			

Resposta 5 Alexandre

1 Alexandre

4 Marcos