


Aluno(a): _____ Data: 11/09/2020
 Professora: Patrícia Bastos

Gabarito Atividade de fixação Geografia

- 1) Pinte de azul os meios de transportes terrestres, de verde o aéreo e de amarelo os aquáticos.



Terrestres- ônibus, bicicleta, trator, cavalo, metrô

Aquático- Navio

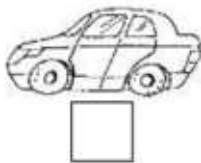
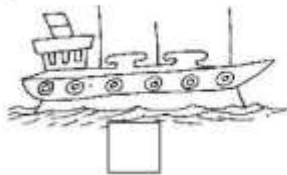
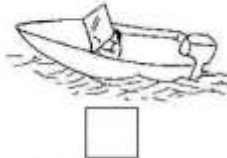
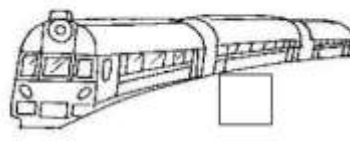
Aéreo - avião

Associe corretamente cada letra abaixo ao tipo de meio de transporte.

T Terrestre

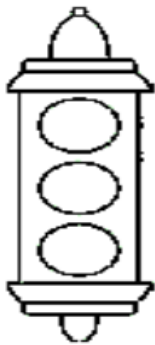
A Aéreo

M Marítimo



Respostas **A – T- M – T- M- A – T- M**

- 2) Pinte corretamente o semáforo abaixo e escreva o significado de cada cor.



verde- siga

Vermelho – Pare – amarelo- atenção –

- 3) As placas servem para orientar os pedestres e os motoristas. Observe as placas e numere de acordo com o significado de cada uma.

4) As placas servem para orientar os pedestres e os motoristas.
Observe as placas e numere de acordo com o significado de cada uma.



- (5) Parada obrigatória
- (3) Proibido andar de bicicleta
- (2) Área escolar próxima
- (1) Proibido trânsito de pedestres
- (4) Proibido estacionar

5) Leia o pequeno texto e responda.

• As cidades surgem da reunião de moradias distribuídas em ruas, avenidas e praças.

• Para facilitar sua localização as ruas, praças e avenidas possuem nomes diferentes.

• Todas as cidades possuem um centro, que quase sempre é a parte mais movimentada da cidade.

• No centro de algumas cidades ficam a igreja matriz, bancos, restaurantes, shoppings, praças e etc.

• Geralmente, nos centros as casas e apartamentos são construídos bem juntos uns dos outros e não há muitos terrenos vazios.

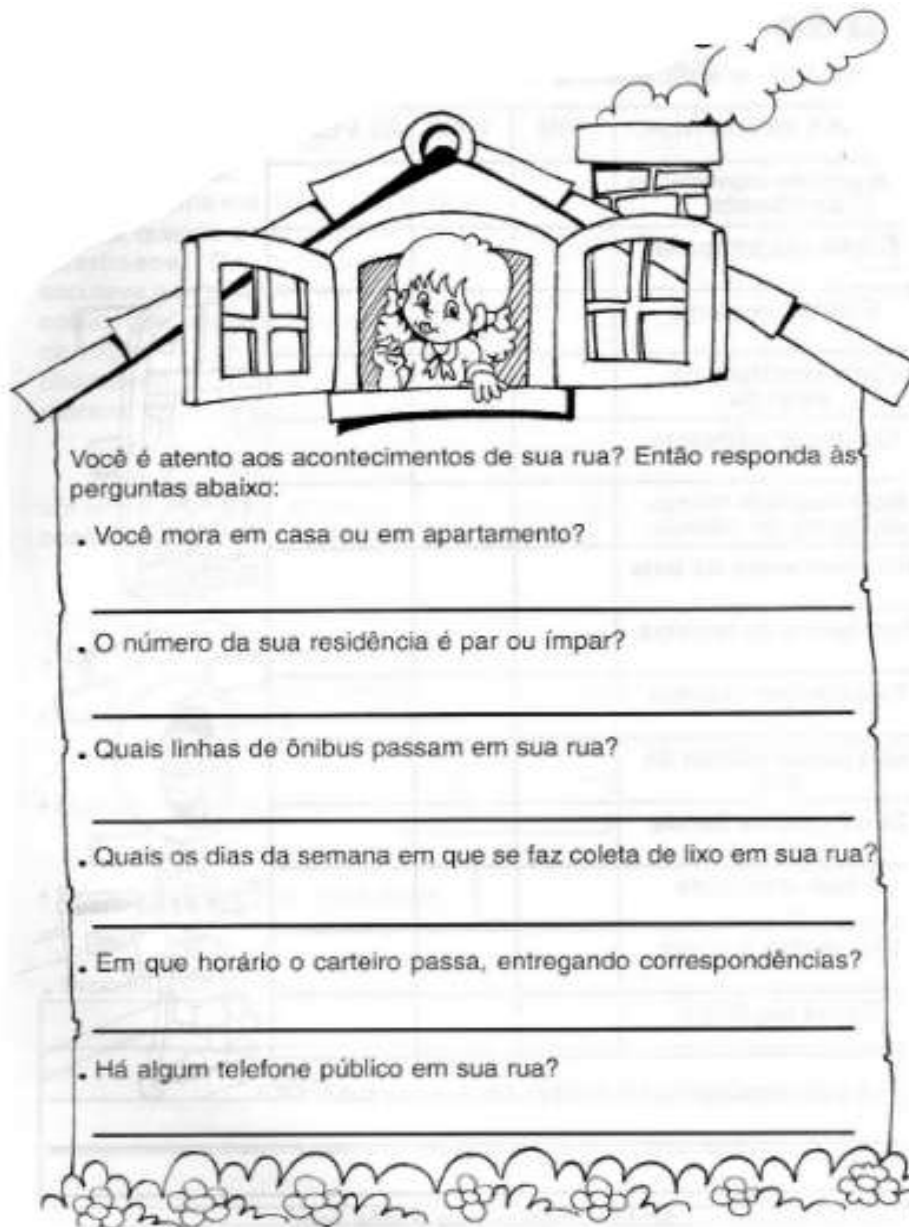
• Nas ruas das grandes cidades, podemos ver grande movimento de: pessoas, ônibus, carros e caminhões. Nas cidades pequenas o movimento é menor.

❖ Responda sobre você:

- Eu vivo na cidade:
- No Estado:
- Moro na rua: Número:
- Você mora perto ou longe do centro da cidade?
.....

Resposta pessoal

6) Entrevistando você.



Resposta pessoal

7) Observe a foto abaixo e depois responda.



De que maneira os veículos poluem o ar?

Por meio da fumaça que sai dos seus escapamentos, que contém substâncias poluentes