

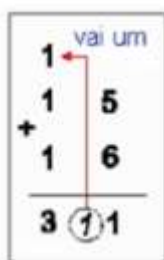
Aluno(a): _____
 Professora: Patrícia Bastos

Data: 13/08/2020
 2º ano.

Atividade de Fixação de Matemática

ADIÇÃO COM RESERVA

Iniciamos a soma pela ordem da unidade, quando o resultado equivale a dezena, acrescentamos essa dezena na próxima soma.



➡ Parcela

➡ Parcela

➡ Soma ou total



1) Agora preste bastante atenção meu amor, pois vamos praticar.

Coloque o número que sobe dentro da bolinha vermelha assim você não vai esquecer.

<input type="radio"/> $\begin{array}{r} 37 \\ + 25 \\ \hline \end{array}$	<input type="radio"/> $\begin{array}{r} 35 \\ + 19 \\ \hline \end{array}$	<input type="radio"/> $\begin{array}{r} 85 \\ + 15 \\ \hline \end{array}$	<input type="radio"/> $\begin{array}{r} 27 \\ + 13 \\ \hline \end{array}$	<input type="radio"/> $\begin{array}{r} 75 \\ + 16 \\ \hline \end{array}$
<input type="radio"/> $\begin{array}{r} 49 \\ + 11 \\ \hline \end{array}$	<input type="radio"/> $\begin{array}{r} 64 \\ + 18 \\ \hline \end{array}$	<input type="radio"/> $\begin{array}{r} 44 \\ + 16 \\ \hline \end{array}$	<input type="radio"/> $\begin{array}{r} 28 \\ + 02 \\ \hline \end{array}$	<input type="radio"/> $\begin{array}{r} 18 \\ + 17 \\ \hline \end{array}$
<input type="radio"/> $\begin{array}{r} 19 \\ + 17 \\ \hline \end{array}$	<input type="radio"/> $\begin{array}{r} 46 \\ + 34 \\ \hline \end{array}$	<input type="radio"/> $\begin{array}{r} 15 \\ + 36 \\ \hline \end{array}$	<input type="radio"/> $\begin{array}{r} 45 \\ + 09 \\ \hline \end{array}$	<input type="radio"/> $\begin{array}{r} 45 \\ + 45 \\ \hline \end{array}$

2) Relembrando.

O 3 vem antes do 8,
então, 3 é **menor** que 8.

$$3 < 8$$

22 vem depois do 16,
então 22 é **maior** que 16.

$$22 > 16$$

Calcule e depois complete com o sinal de maior e de menor.

$15 + 4$ ↓ <input type="text"/>	$20 + 3$ ↓ <input type="text"/>	$17 + 1$ ↓ <input type="text"/>	$10 + 10$ ↓ <input type="text"/>
$13 + 5$ ↓ <input type="text"/>	$11 + 4$ ↓ <input type="text"/>	$22 + 3$ ↓ <input type="text"/>	$21 + 0$ ↓ <input type="text"/>

3) Resolva pintando as bandeirinhas.

5-2=

7-2=

8-2=

10-2=

4) Escreva o numeral abaixo por extenso.

a) 126 _____

b) 78 _____

















c) 231 _____

d) 25 _____

e) 56 _____

5) Cálculo mental.

Vamos calcular e registrar o valor em dinheiro que cada criança possui?

<p>Comila</p> 	<p>R\$ _____</p> 	<p>Felipe</p> 	<p>R\$ _____</p> 
<p>Joana</p> 	<p>R\$ _____</p> 	<p>Marina</p> 	<p>R\$ _____</p> 
<p>Henrique</p> 	<p>R\$ _____</p> 	<p>Manuela</p> 	<p>R\$ _____</p> 
<p>Gabriel</p> 	<p>R\$ _____</p> 	<p>José</p> 	<p>R\$ _____</p> 

☆ EU TE DESAFIO! ☆

6) Vamos ver se você lembra de dúzia e meia dúzia.

- Uma dúzia de ovos são _____



- Duas dúzias de ovos são _____



- Meia dúzia de ovos são _____

