



Centro Educacional Teresa Cristina

Aluno(a): _____ Data: 04/09/2020

Professora: Hannah Egger

3º ano

Atividade de Fixação / Matemática

1- A turma do 3º ano foi assistir ao espetáculo do Circo Alegria. Observe os horários do início e do fim da sessão, e desenhe os ponteiros nos relógios.

HORÁRIOS	
INÍCIO	17:00
FIM	20:00

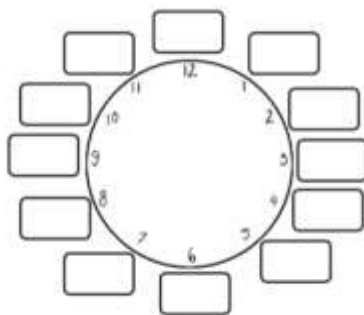


INÍCIO



FIM

2- Complete os quadrinhos com os minutos que correspondem aos números no relógio de ponteiros.



3- Escreva por extenso os horários determinados na questão 1.

Início: _____

Fim: _____



4- Uma embalagem tem 3 bolas de tênis. Quantas bolas terão em 6 embalagens iguais a essa?

Operação indicada: _____

Cálculo

R: _____

5- Que quadrinho possui uma quantia em moedas de R\$ 0,50 e R\$ 1,00, que totaliza R\$ 15,00?



6- Arme e efetue.

a) $7.547 - 2.458 =$ _____

b) $5.457 + 3.789 =$ _____

c) $645 \times 8 =$ _____

d) $879 \times 7 =$ _____

e) $819 : 9 =$ _____

f) $366 : 6 =$ _____

a)	b)
c)	d)
e)	f)

Ciente: _____