

Aluno(a): _____
Professora: Patrícia Bastos

Data: 16/07/2020
2º ano.

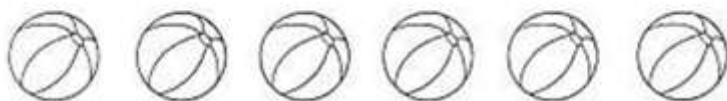
Gabarito da Atividade de Fixação de Matemática

- 1) Pinte 1 dezena de garrafas de leite.




Circule 10 garrafas de leite.

- 2) Complete até formar 1 dúzia de bolas.



Complete com mais 6 bolas.

- 3) Circule meia dúzia de canetas.




Circular 6 canetas

- 4) Calcule.

- a) 2 dúzias de laranjas + 2 dúzias de tangerina = $24+24= 48$
b) 3 dezenas + 1 dezena = $30+10= 40$
c) Meia dúzia + 1 dezena = $6+10= 16$

- 5) Veja a posição as formiguinhas e continue a numerá-las segundo a ordem que ocupam.



- 6) Desenhe o que se pede.

- a) Uma folha na 6ª formiguinha;
- b) Um chapéu na cabeça da 4ª formiguinha;
- c) Um laço na cabeça da 9ª formiguinha.

7) Resolva as continhas abaixo.

$$\begin{array}{r} 9 \\ +2 \\ \hline \end{array} \quad \begin{array}{r} 6 \\ +3 \\ \hline \end{array} \quad \begin{array}{r} 7 \\ +7 \\ \hline \end{array}$$

$$\begin{array}{r} 5 \\ +5 \\ \hline \end{array} \quad \begin{array}{r} 9 \\ +4 \\ \hline \end{array} \quad \begin{array}{r} 8 \\ +2 \\ \hline \end{array}$$



Resposta: 11, 9, 14
10, 13, 19

8) Escreva os resultado das continhas por extenso.

Onze, nove, catorze
Dez, treze, dezenove

9) Agora resolva as subtrações.

DEZENA	UNIDADE	DEZENA	UNIDADE	DEZENA	UNIDADE	DEZENA	UNIDADE	DEZENA	UNIDADE
5	7	6	6	4	8	3	3	8	7
-4	3	-4	6	-2	5	-2	1	-6	4

1 4 2 0 2 3 1 2 2 3