

Aluno(a): \_\_\_\_\_ Data: 17/07/2020

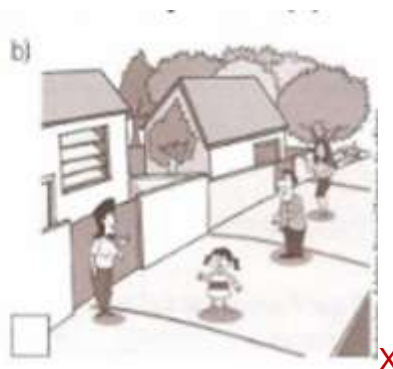
Professora: Patrícia Bastos

## Gabarito / Atividade de Fixação de Geografia

- 1) Leia o texto e resolva a questão.

DANIELA MORA EM UMA RUA BEM CUIDADA PELOS MORADORES. ELA TEM MUITOS VIZINHOS E TRATA TODOS COM EDUCAÇÃO E RESPEITO.

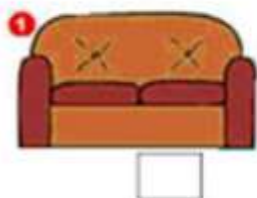
Qual dessas ruas é a de Daniela? Marque com um X



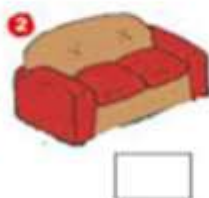
- 2) Faça o que se pede em relação a rua de Daniela.

- a) Crie um nome para essa rua RP  
b) Um número para essa casa RP  
c) Um bairro RP  
d) Um CEP RP

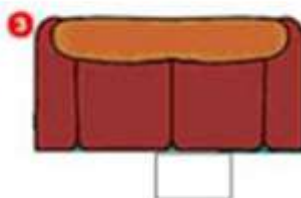
- 3) Pinte de vermelho a figura que pode ser vista de frente.  
Pinte de azul a figura vista de cima e de lado.  
Pinte de amarelo a figura vista de cima.



Vermelha



Azul



amarelo

- 4) Escreva que tipo de bairro mostra cada figura.



--	--	--

Comercial

Industrial

Residencial

5) Escreva 3 atividades que você faz durante o dia.

1 \_\_\_ RP

2 \_\_\_ RP

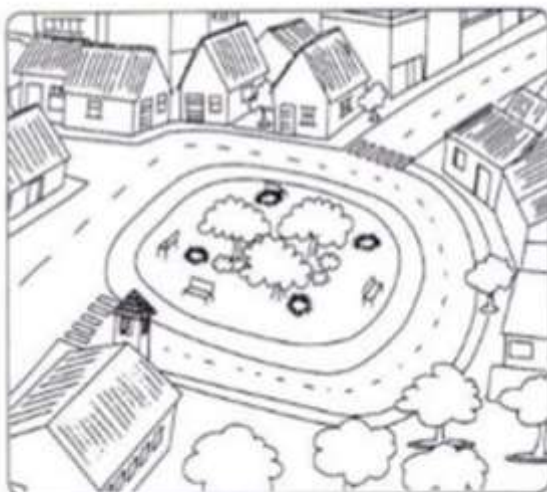
3 \_\_\_ RP

6) Leia o texto abaixo.

### O bairro onde moro

O bairro onde moro  
É pura animação...  
Casas, ruas e pessoas  
E muita agitação!

Padeiros, barbeiros  
E até um sacolão...  
Supermercados e lixeiras  
Sempre à disposição!



7) Agora escreva como é o seu bairro.

RP

8) Enumere a 2ª coluna de acordo com a 1ª.

( A ) Bairros residenciais

( ) Aqueles nos quais prevalecem as residências; com pequenos comércios para facilitar a vida das pessoas, como padarias, açougues etc...

( B ) Bairros comerciais

( ) Ficam mais afastados dos centros das cidades. Neles são encontradas as indústrias de alimentos, indústrias têxteis, de materiais de construção, produtos farmacêuticos, etc.

( C ) Bairros industriais

( ) Prevalecem as lojas, são movimentados em razão do grande número de lojas que possuem.

Resposta A C B