

Aluno(a): _____ Data: 17/07/2020

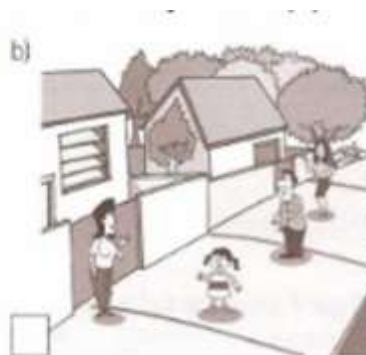
Professora: Patrícia Bastos

Atividade de fixação de Geografia

- 1) Leia o texto e resolva a questão.

DANIELA MORA EM UMA RUA BEM CUIDADA PELOS MORADORES. ELA TEM MUITOS VIZINHOS E TRATA TODOS COM EDUCAÇÃO E RESPEITO.

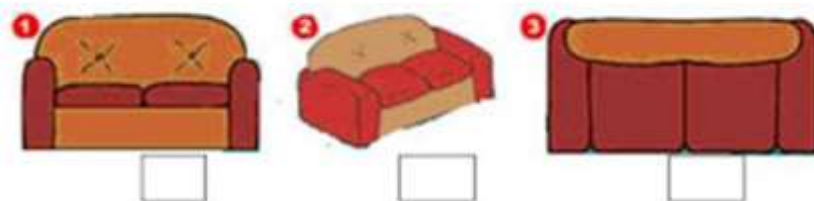
Qual dessas ruas é a de Daniela? Marque com um X



- 2) Faça o que se pede em relação a rua de Daniela.

- a) Crie um nome para essa rua _____
b) Um número para essa casa _____
c) Um bairro _____
d) Um CEP _____

- 3) Pinte de vermelho a figura que pode ser vista de frente.
Pinte de azul a figura vista de cima e de lado.
Pinte de amarelo a figura vista de cima.



- 4) Escreva que tipo de bairro mostra cada figura.



--	--	--

5) Escreve 3 atividades que você faz durante o dia.


- 1 _____
- 2 _____
- 3 _____

6) Leia o texto abaixo.

O bairro onde moro

O bairro onde moro
É pura animação...
Casas, ruas e pessoas
E muita agitação!

Padeiros, barbeiros
E até um sacolão...
Supermercados e lixeiras
Sempre à disposição!



7) Agora escreva como é o seu bairro.

8) Enumere a 2ª coluna de acordo com a 1ª.

(A) Bairros residenciais

() Aqueles nos quais prevalecem as residências; com pequenos comércios para facilitar a vida das pessoas, como padarias, açougues etc...

(B) Bairros comerciais

() Ficam mais afastados dos centros das cidades. Neles são encontradas as indústrias de alimentos, indústrias têxteis, de materiais de construção, produtos farmacêuticos, etc.

(C) Bairros industriais

() Prevalecem as lojas, são movimentados em razão do grande número de lojas que possuem.