

Aluno(a): \_\_\_\_\_ Data: 20/07/2020  
Professora: Patrícia Bastos 2º ano.

## Atividade de Fixação de Ciências


1)

Leia o texto abaixo.

O nosso planeta, apesar de ser chamado Terra, é formado de três grandes componentes indispensáveis à sobrevivência de todos os seres vivos: a água, o ar e o solo.

Cada um desses componentes possui características próprias e ambientes bem distintos entre si, que se tornam importantes reservatórios necessários à vida.

A inter-relação entre o solo, a água e o ar é grande, de modo que, quando algo acontece com um deles, acaba afetando o outro.



[www.pinterest.com.br](http://www.pinterest.com.br)

2) Responda de acordo com o texto.

Quais os componentes naturais que aparecem no texto?

\_\_\_\_\_

3) Escolha um dos componentes naturais e explique-o.

\_\_\_\_\_  
\_\_\_\_\_  
\_\_\_\_\_

4) Pinte o desenho que está no texto e crie uma frase conscientizando o homem da importância de preservar o meio ambiente.

\_\_\_\_\_  
\_\_\_\_\_

5) Explique.

Vento \_\_\_\_\_


\_\_\_\_\_

Solos férteis \_\_\_\_\_

Arejar \_\_\_\_\_

6) Leia as curiosidades e relacione os peixes com as características correspondentes.

- A** 41 ANOS É A IDADE DO PEIXINHO DE AQUÁRIO QUE VIVEU MAIS TEMPO. O NOME DELE ERA FRED.
- B** É O ANIMAL QUE POSSUI O MAIOR NÚMERO DE DENTES E QUE AO LONGO DA SUA VIDA, PODE TER ATÉ 30 MIL DENTES. É QUE ELE TROCA A DENTIÇÃO CONTINUAMENTE.
- C** 3 SEGUNDOS É O TEMPO QUE DURA A MEMÓRIA DE UM PEIXINHO DOURADO DE AQUÁRIO.




"MANUAL DOS CURIOSOS". ED. ORANEA CULTURAL.

Agora complete.

O lugar em que os seres vivos da atividade acima vivem é chamado de ambiente

\_\_\_\_\_

7) Encontre no caça-palavras o nome dos animais abaixo e depois pinte só os que vivem no ambiente terrestre.



M	O	R	C	E	G	O	Q	K	A	B	E	L	H	A	D	N	P
D	S	C	O	E	L	H	O	V	L	R	G	A	V	I	Ã	O	M
P	C	M	A	C	A	C	O	F	G	H	M	B	A	L	E	I	A
T	U	B	A	R	Ã	O	F	P	R	J	A	B	U	T	I	N	S
C	L	F	N	G	O	L	F	I	N	H	O	V	B	D	W	K	J

Ciente: \_\_\_\_\_