



Aluno(a): \_\_\_\_\_  
Professora: Patrícia Bastos

Data: 24/06/2020  
2º ano.

## Atividade de fixação de história

1) Leia o texto abaixo.

### OS DIAS DA SEMANA

UMA SEMANA É FORMADA POR UM GRUPO DE 7 DIAS. A CONTAGEM DOS DIAS E SEU AGRUPAMENTO POR SEMANA, MESES E ANO É UMA FORMA DE CONTAR O TEMPO.

OS DIAS DA SEMANA SÃO: SEGUNDA-FEIRA, TERÇA-FEIRA, QUARTA-FEIRA, QUINTA-FEIRA, SEXTA-FEIRA, SÁBADO E DOMINGO.

2) De acordo com o texto e com o que você já aprendeu marque a alternativa correta.

Uma semana tem:

- ( ) 5 dias
- ( ) 7 dias
- ( ) 8 dias

3) Responda.

a) Quais os dias da semana que não tem aula?

\_\_\_\_\_

b) Qual o dia da semana que você mais gosta e explique o porquê.

\_\_\_\_\_  
\_\_\_\_\_  
\_\_\_\_\_







4) Existem vários tipos de relógios. Pinte o que você tem na sua casa.



5) Dos relógios acima, somente o digital não tem ponteiros.

- a) Quantos ponteiros cada relógio tem? \_\_\_\_\_
- b) O que cada ponteiro indica? \_\_\_\_\_

6) Coloque os dias da semana em ordem, usando os numerais ordinais.

	<input type="radio"/>	<input type="text"/>	
	<input type="radio"/>	<input type="text"/>	
	<input type="radio"/>	<input type="text"/>	
	<input type="radio"/>	<input type="text"/>	
	<input type="radio"/>	<input type="text"/>	
	<input type="radio"/>	<input type="text"/>	
	<input type="radio"/>	<input type="text"/>	
	<input type="radio"/>	<input type="text"/>	
	<input type="radio"/>	<input type="text"/>	

7) Observe as frases abaixo e complete com **presente, passado ou futuro**.

- a) Os meninos vão jogar bola no campo. \_\_\_\_\_
- b) Estudei para a prova. \_\_\_\_\_
- c) Amanhã acordarei cedo. \_\_\_\_\_
- d) Quero comer bolo agora. \_\_\_\_\_