


Aluno(a): _____
 Professora: Patrícia Bastos

Data: 01/06/2020
 2º ano.

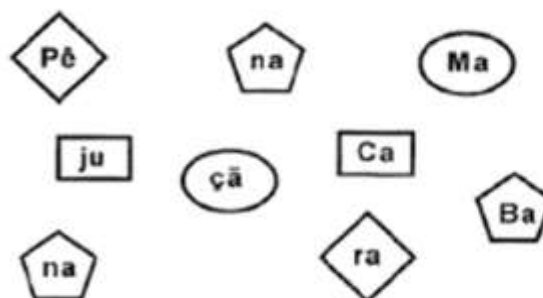
Atividade de Fixação de Ciências

- 1) Ligue o desenho a função correta e escreva ao lado o nome da parte correspondente.

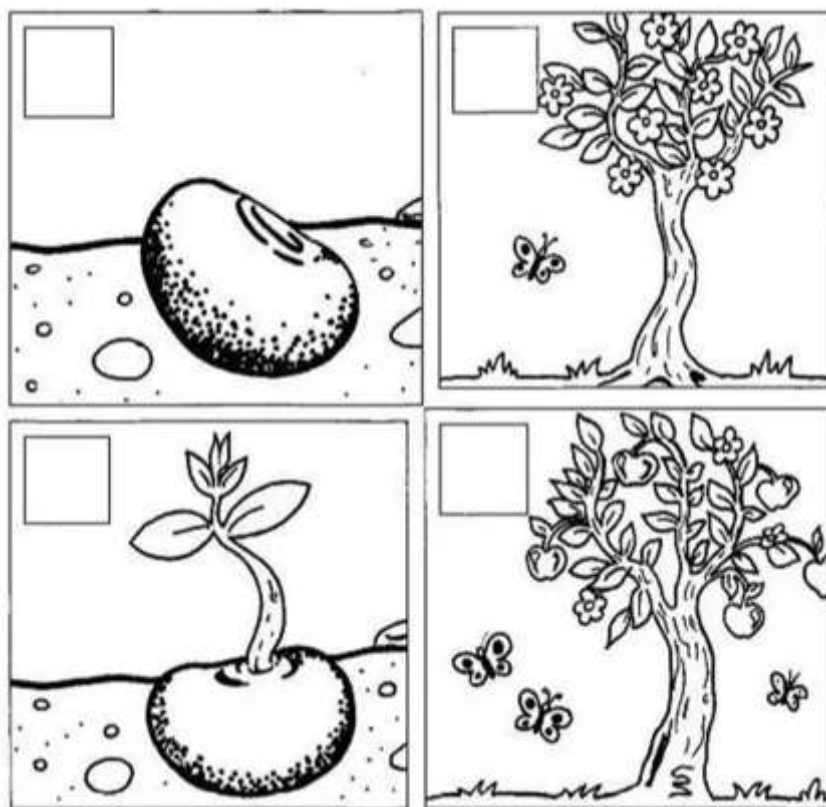


Respiração	<input type="text"/>
Proteção	<input type="text"/>
Fixação	<input type="text"/>
Reprodução	<input type="text"/>
Sustentação	<input type="text"/>





- 2) Encaixe as peças iguais e descubra nomes de frutas.



- 3) Numere as cenas de acordo com a sequência dos fatos.



4) Ligue cada pessoa ao nome da fase que está vivendo.

	<input type="text" value="VELHICE"/>
	<input type="text" value="FASE ADULTA"/>
	<input type="text" value="INFÂNCIA"/>
	<input type="text" value="ADOLESCÊNCIA"/>

5) Leia com bastante atenção as palavras abaixo.

MÁSCARA - LENÇO - ÁLCOOL - ÁGUA
 SABÃO - CONTATO - BEIJO -

Procure essas palavras no caça corona abaixo.

CORONAVÍRUS

Q	Y	U	S	A	B	Ã	O	I	P	C
E	M	Ç	X	M	W	Ç	P	V	Z	O
T	O	Á	O	R	N	E	B	Á	G	N
W	K	L	S	E	Y	U	T	G	S	T
R	F	C	L	C	N	I	J	U	D	A
S	H	O	T	O	A	R	K	A	J	T
D	C	O	Q	Z	D	R	Ç	L	C	O
F	B	L	M	G	K	V	A	N	A	X
G	L	Z	B	E	I	J	O	A	H	V

6) Complete.

As casas, os prédios, as pontes são exemplos de componentes _____

Os animais, as plantas, a água são exemplos de componentes _____

7) Pinte na imagem abaixo somente os componentes construídos.

