


Aluno(a): \_\_\_\_\_  
Professora: Patrícia Bastos

Data: 07/05/2020  
2º ano.

## Gabarito da Revisão de Matemática

1) Observe os carros de corrida e marque um X na resposta certa.



a) Qual a posição de largada do competidor brasileiro?

- 1º lugar     2º lugar     3º lugar     4º lugar


Resposta: 4º lugar

b) Qual o carro está em último lugar?

- 8º     10º     9º

Resposta O 10º carro

2) Escreva em numerais ordinais a posição das crianças que estão na fila do cinema.



4º, 5ª, 6º

Pintar

circular

Resposta: 1º, 2º, 3ª,

a) Circule a criança que está em 5º lugar.

b) Pinte a criança que está em 2º lugar.

3) Desenhe uma dúzia de maçãs.

Resposta: 6 maçãs


4) Quantos bolinhos Magali tem na bandeja?



O NÚMERO DE BOLINHOS DE MAGALI CORRESPONDE A UMA DEZENA

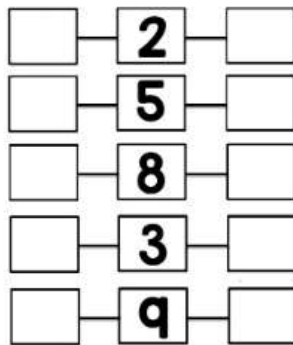
Resposta: 10

5) Complete até formar uma dezena,



Nos triângulos desenhe 7 – nos círculos desenhe 6 –no quadrado desenhe 9

6) Complete com o antecessor e o sucessor dos números abaixo.



Respostas: 1 e 3 – 4 e 6 – 7 e 9 – 2 e 4 – 8 e 10

7) Resolva as continhas abaixo.

$$\begin{array}{r} +12 \\ +15 \\ \hline \square \end{array}$$

27

$$\begin{array}{r} +32 \\ +27 \\ \hline \square \end{array}$$

59

$$\begin{array}{r} +11 \\ +11 \\ \hline \square \end{array}$$

22

$$\begin{array}{r} -95 \\ -15 \\ \hline \square \end{array}$$

80

$$\begin{array}{r} -18 \\ -12 \\ \hline \square \end{array}$$

06

$$\begin{array}{r} -32 \\ -11 \\ \hline \square \end{array}$$

21



Ciente: \_\_\_\_\_