

Aluno(a): _____

Data: 30/04/2020


Professora: Eliane Daltro

Turma: _____

Disciplina: Musicalização

GABARITO

Essas figuras representam o som, são chamadas valores ou ainda, figuras de som



Semibreve



Semicolcheia



Mínima



Fusa



Semínima




Semifusa



Colcheia

1) Escreva o nomes das figuras de som, observando o exemplo acima.




semibreve



colcheia



fusa



mínima



semicolcheia



semifusa



semínima

Ciente: _____