


Aluno(a): _____
Professora: Patrícia Bastos

Data: 07/05/2020
2º ano.

Fixação de Matemática

1) Observe os carros de corrida e marque um X na resposta certa.




a) Qual a posição de largada do competidor brasileiro?

- 1º lugar 2º lugar 3º lugar 4º lugar

b) Qual o carro está em último lugar?

- 8º 10º 9º

2) Escreva em numerais ordinais a posição das crianças que estão na fila do cinema.



a) Circule a criança que está em 5º lugar.

b) Pinte a criança que está em 2º lugar.


3) Desenhe uma dúzia de maçãs.

4) Quantos bolinhos Magali tem na bandeja?

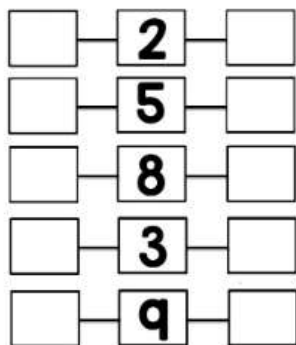


O NÚMERO DE BOLINHOS DE MAGALI CORRESPONDE A UMA DEZENA

5) Complete até formar uma dezena.



6) Complete com o antecessor e o sucessor dos números abaixo.



7) Resolva as continhas abaixo.

$$\begin{array}{r} +12 \\ +15 \\ \hline \square \end{array}$$

$$\begin{array}{r} +32 \\ +27 \\ \hline \square \end{array}$$

$$\begin{array}{r} +11 \\ +11 \\ \hline \square \end{array}$$

$$\begin{array}{r} -95 \\ -15 \\ \hline \square \end{array}$$

$$\begin{array}{r} -18 \\ -12 \\ \hline \square \end{array}$$

$$\begin{array}{r} -32 \\ -11 \\ \hline \square \end{array}$$



Ciente: _____