



# Centro Educacional Teresa Cristina

Aluno(a): \_\_\_\_\_  
Professora: Marcele Marins

Data: 07/04/2020.  
5º ano.

## Gabarito

### Atividade de Fixação de Matemática

1-A soma de dois números é 68.930. Um dos números é 7.820. Qual é o outro?

Cálculo:

$$\begin{array}{r} 68.930 \\ - 7.820 \\ \hline 61.110 \end{array}$$

R. O outro é 61.110.

2- Sabendo que o subtrendo é 32.660 e o minuendo é 98.390, qual é a diferença?


Cálculo:

$$\begin{array}{r} 98.390 \\ - 32.660 \\ \hline 65.730 \end{array}$$


R. A diferença é 65.730.

3- Observe as imagens abaixo.


R\$ 525,00



R\$ 360,00



R\$ 158,00



\*Quanto a TV é mais cara que a máquina fotográfica?

- ( ) R\$377,00
- ( x ) R\$367,00
- ( ) R\$357,00
- ( ) R\$376,00

4- Arme e efetue as operações abaixo.

## Solução

$$\begin{array}{r} \text{a) } 239.045 \\ + \quad 406 \\ \hline 18.300 \\ \hline 257.751 \end{array}$$

$$\begin{array}{r} \text{b) } 678.550 \\ - 11.201 \\ \hline 667.349 \end{array}$$

5- Retire da questão anterior, os números representados pelos termos:

a) Soma = **257.751**

b) Resto = **667.349**

c) Minuendo = **678.550**

6- Revisar as tabuadas de X.

Ciente: \_\_\_\_\_